


Data: _____ / _____ / _____

Nome: _____

Revisão Ciências

1. Observe a cena abaixo e faça o solicitado.



• Circule os componentes do ambiente de acordo com a legenda.













Seres vivos



Seres não vivos

2. Em cada coluna do quadro abaixo há um intruso. Descubra quem é e pinte-o.

Seres Vivos	Seres Não Vivos
    	    


Data: _____ / _____ / _____

Nome: _____

3. Trace o caminho que passa por todas as imagens, seguindo a ordem crescente do desenvolvimento da planta.



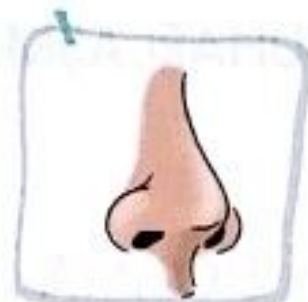
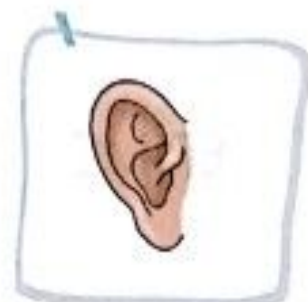
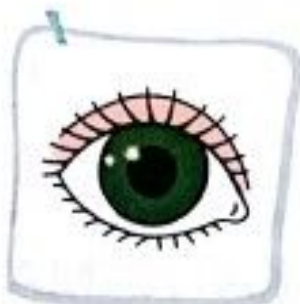
4. Todos os ambientes precisam de cuidados para que seja conservados. Pinte a mãozinha correspondente aos cuidados que devemos ter em cada ambiente.



Data: _____ / _____ / _____

Nome: _____

5. Ligue cada situação ao órgão que mais é utilizado para realizá-la.



Data: _____ / _____ / _____

Nome: _____

6. Enumere os sentidos a cada órgão correspondente.



(1) audição

(2) paladar

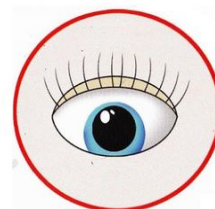
(3) tato

(4) olfato

(5) visão

7. Complete as frases corretamente.

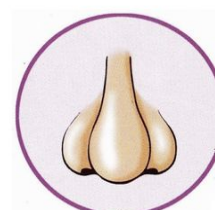
a) Com os podemos enxergar o que está ao nosso redor.



b) Com as podemos escutar os sons.



c) Com o podemos sentir os cheiros.



d) Com a podemos sentir o sabor dos alimentos.

e) Por meio da podemos perceber as características do que tocamos.

Data: ____ / ____ / ____

Nome: _____


8. Durante o nosso dia utilizamos diferentes objetos. Circule os objetos abaixo de acordo com a legenda.



Material escolar



Material de limpeza



Equipamentos de cozinha



9. Circule os objetos indígenas que aparecem na imagem abaixo.

